



وزارة التربية



إدارة الشؤون التعليمية  
مراقبة الامتحانات وشؤون الطلبة



نموذج الإجابة

المرحلة الابتدائية

( منهج كامل )

اختبارات نهاية الفصل الدراسي الثاني

المادة : الاجتماعيات

الصف : الخامس

العام الدراسي

2016 / 2017

العام الدراسي ٢٠١٦-٢٠١٧م

المادة: بلادي الكويت

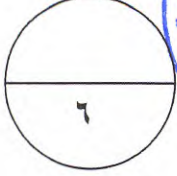
الزمن: ساعة وربع

عدد الأوراق: ٤

وزارة التربية

الإدارة العامة لمنطقة مبارك الكبير التعليمية

التوجيه الفني للاجتماعيات لإجابة التوجيه الفصل الدراسي الأول والإشراك  
" المنهج الكامل " للصف الخامس



السؤال الأول: يتكون من ( أ - ب - )

أ- أكمل العبارات التالية بما يناسبها: درجة  $6 \times$

١ - دائرة العرض الرئيسية و رقمها فلكيا الصفر تسمى خط الاستواء ص ١٨

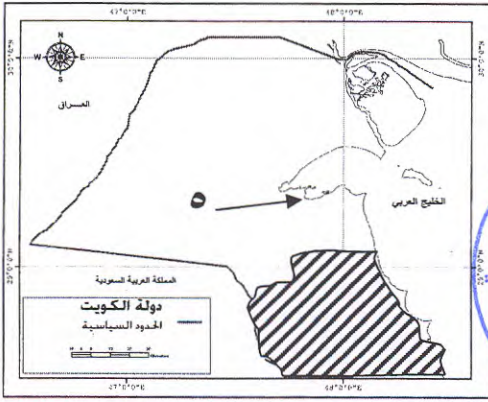
٢ - صاحب فكرة إنشاء مجلس التعاون الخليجي هو الشيخ جابر الاحمد الجابر الصباح ص ٥٦

٣ - كان المقر المؤقت للحكومة الكويتية الشرعية أثناء غزو النظام العراقي البائد مدينة اسمها. الطائف ص ٦١

٤ - نسبة اعتماد دولة الكويت على النفط تبلغ  $94\%$  ص ٨٠

٥ - الرقم ٥ بالخريطة المقابلة يشير الى ميناء تجاري يعرف بالشيخ ص ٨٩

٦ - المحافظة المظللة على الخريطة المقابلة اسمها الأحمدي ص ٧٥



ب - أنسب من المجموعة ( أ ) ما يناسبها في المجموعة ( ب ) بوضع الرقم المناسب :- درجة  $6 \times$

الرقم	( أ )	الرقم المناسب	( ب )
١	الهيئة العامة للبيئة ص ٩٢	٤	مسؤولة عن اكتشاف النفط و انتاجه
٢	امتياز التنقيب ص ٥٠	٣	اراض منخفضة قليلة المياه تنمو فيها النباتات الملحية
٣	السبخات ص ٢٧	٢	إعطاء الدولة حق البحث و التنقيب عن النفط و بيعه لشركة اجنبية متخصصة
٤	شركة نفط الكويت ص ٨٩	٦	انتقال الانسان من مكان الى آخر لفترة معينة و لغرض معين مثل الراحة و الاستمتاع و المعرفة
٥	الهيئة العامة للشباب والرياضه ص ٩٢	١	حماية البيئة من التلوث و الحفاظ عليها .
٦	السياحة ص ٩٦	٥	بناء الشباب الكويتي روحاً و جسداً

السؤال الثاني: يتكون من ( أ - ب )

١- ضع علامة (√) أمام العبارة الصحيحة وعلامة (x) أمام العبارة الخاطئة : درجة × ٦

- ١- يتوسط ساحل دولة الكويت خليج صغير يعرف باسم خليج عمان. ( × ) ص ٢٧
- ٢- الحاكم العاشر لدولة الكويت الشيخ أحمد الجابر الصباح ( √ ) ص ٥٠
- ٣ - يبلغ عدد خطوط الطول ١٨٠ خطاً . ( × ) ص ١٨
- ٤- يتميز سكان شبه الجزيرة العربية بعلم الفلك . ( √ ) ص ٣٦
- ٥- تعد دولة الكويت من الدول كثيرة السكان . ( × ) ص ٧٧
- ٦ - اهتمت دولة الكويت بالزراعة وذلك بإنشاء هيئات متخصصة في الزراعة مثل المركز العلمي ( √ ) ص ٨٥



٢- اختر الاجابة الصحيحة من البدائل التالية بوضع خط على الاجابة الصحيحة : درجة × ٦

- ١ - أكثر المحافظات الكويتية من حيث الكثافة السكانية هي محافظة: ص ٧٤
- أ- العاصمة. ب- الفروانية. ج- حولي. د- الجهراء.
- ٢- من اعمال اللجان الشعبية اثناء الغزو العراقي للكويت : ص ٦١
- أ- المشاركة في مؤتمر جدة الشعبي. ب- إرسال الوفود إلى دول العالم من رجالات الكويت. ج- حراسة الأحياء السكنية. د- تنشيط الدور الاعلامي و تنظيم المسيرات في عواصم العالم.
- ٣- يبلغ عدد دوائر العرض : ص ١٨
- أ- ٦٠ دائرة. ب- ٩٠ دائرة. ج- ١٨٠ دائرة. د- ٣٦٠ دائرة.
- ٤- من أهم اهداف الهيئة العامة للصناعة : ص ٩٢
- أ- تطوير الصناعة المحلية ب- حماية البيئة من التلوث ج- تحد من الآثار السلبية لاستخدام التكنولوجيا على الانسان د- تدريب الشباب و اعدادهم للاسهام في مختلف الخدمات
- ٥ - من اهم مناطق تربية الحيوانات في دولة الكويت : ص ٨٥
- أ- صباحان. ب- المقوع. ج- برقان. د- الشقايا.
- ٦- الشركة الكويتية لتزود الطائرات بالوقود هي شركة: ص ٩١
- أ- كافكو. ب- نفط الخليج. ج- ناقلات النفط. د- نفط الخليج.



السؤال الثالث : يتكون من ( أ - ب ) :- درجة  $\times 4$

( أ ) عرف ما يلي:

١- تأمين النفط : أي تملك الدولة لشركة النفط العاملة في أراضيها ص ٥٤

٢- العصيان المدني : الامتناع عن العمل وعن التعاون مع النظام المحتل باي شكل من الاشكال ص ٦٠

٣- الكثبان الرملية. هي تلال من الرمال تتراكم في الصحاري بفعل الرياح ص ٢٧

٤- الاستثمار : توظيف الفائض من الاموال الناتج عن زيادة دخل الدولة ص ٨٠

( ب ) حدد ما يلي على خريطة دولة الكويت باستخدام الرموز الموضحة: درجة  $\times 4$



ص ٨٤

■ منطقة العبدلي. ○

ص ٩٠

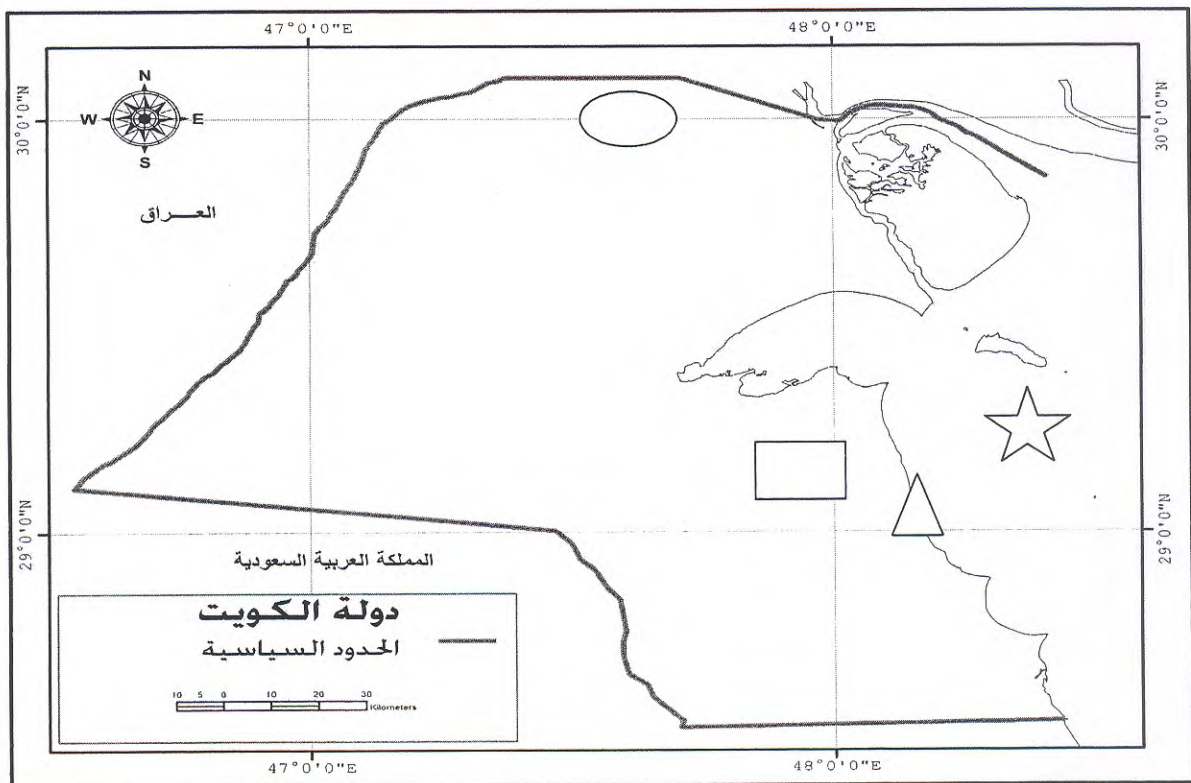
■ ميناء الشعبة. △

ص ٨١

■ منطقة صباح الصناعية. □

ص ٨١

■ الخليج العربي. ☆



**السؤال الرابع : يتكون من ( أ - ب )**

**(- فرق بين كل مما يلي حسب ما هو مطلوب منك في الجدول التالي :- درجة × ٤**

الزيادة الطبيعية للسكان ص ٧٢ نقطتين	الزيادة الطبيعية للسكان ص ٧٢ نقطتين	
* حاجة الكويت للتخصصات الفنية غير المتوافرة في الكويت * توافر فرص العمل بأجور عالية * الامن و الاستقرار الذي تميزت به * السماح للوافدين باصطحاب عوائلهم	*زيادة الخدمات الطبية * تشجيع الدولة للزيادة الطبيعية (المواليد)	الاسباب
الزراعة بدون تربة ص ٨٤ نقطة	الزراعة المحمية ص ٨٤ نقطه	
هي الزراعة التي تتم في بيئة من الرمل او الحصى او نشارة الخشب مضافا اليها المحاليل الغذائية	هي زراعة الخضروات في غير موسمها بحمايتها من تقلبات الطقس و ذلك في بيوت بلاستيكية	التعريف

**(ب- أكتب فيما يلي:- درجة × ٤**

١. جهود الدولة في تشجيع الثروة الحيوانية: ص ٨٥ نقطتين  
\* الرعاية البيطرية \* الدعم المادي \* الاعلاف بأسعار رمزية

٢- ماهي معوقات الزراعة في دولة الكويت. ص ٨٤ نقطتين  
\* فقر التربة \* شدة الحرارة \* قلة المياه

٣- الموقف دول العالم لتحرير دولة الكويت ص ٦٤ نقطة

\*تحالف العديد من دول العالم لنصرة الحق الكويتي و المساهمة بقوات عسكرية من مشاة و طيران  
\*كان للولايات المتحدة الامريكية الدور ابارز في حرب تحرير دولة الكويت

٤- أهم الانجازات التي تحققت في عهد الشيخ صباح السالم ص ٥٤. نقطة

\*افتتاح جامعة الكويت ١٩٦٦م \* اعتداء النظام العراقي علي مركز الصامدة الحدودي ١٩٧٣م  
\*تاميم شركات النفط ١٩٧٥م \* انشاء مؤسسة الكويت للتقدم العلمي ١٩٧٦م  
\* عقد اتفاقيات اقتصادية مع دول الخليج \* اشترك الكويت في العديد من المنظمات والهيئات العامة

مع تمنيات توجيه الاجتماعيات بالتوفيق و النجاح